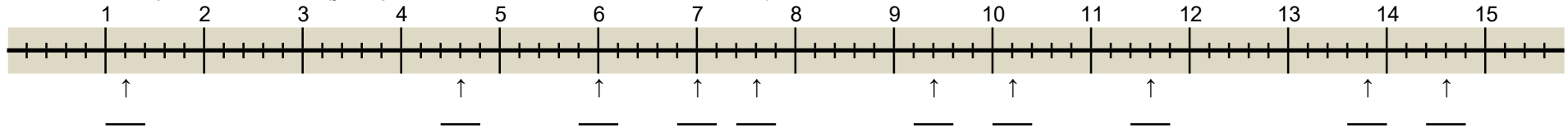
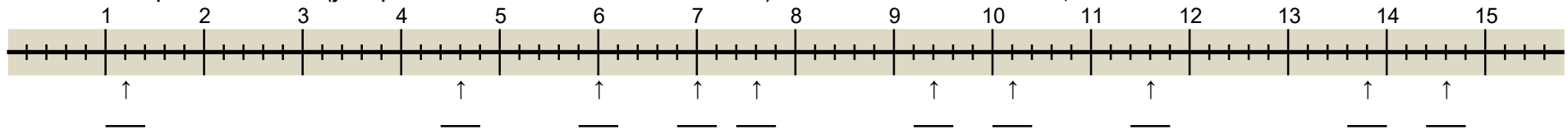


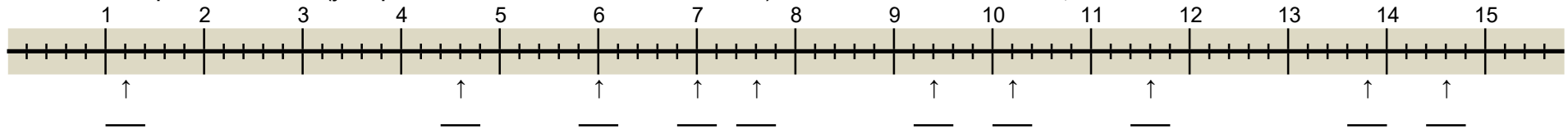
A Ecris sous chaque flèche la fraction (y compris sous la forme d'un entier + une fraction  $< 1$ ). Dans le cas de fractions décimales, écris aussi le nombre décimal. Fiche 808



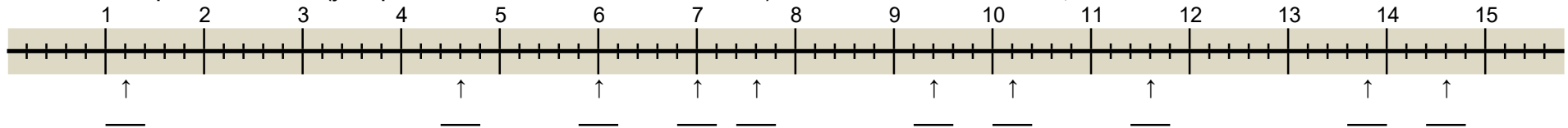
A Ecris sous chaque flèche la fraction (y compris sous la forme d'un entier + une fraction  $< 1$ ). Dans le cas de fractions décimales, écris aussi le nombre décimal. Fiche 808



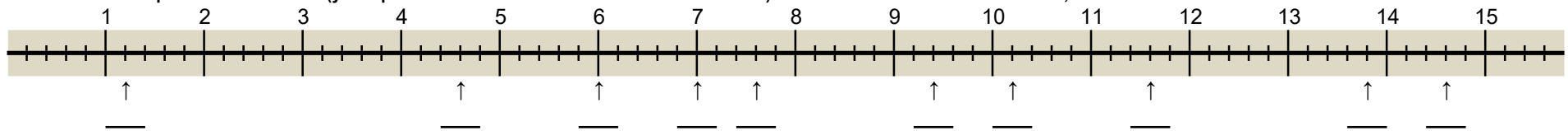
A Ecris sous chaque flèche la fraction (y compris sous la forme d'un entier + une fraction  $< 1$ ). Dans le cas de fractions décimales, écris aussi le nombre décimal. Fiche 808



A Ecris sous chaque flèche la fraction (y compris sous la forme d'un entier + une fraction  $< 1$ ). Dans le cas de fractions décimales, écris aussi le nombre décimal. Fiche 808

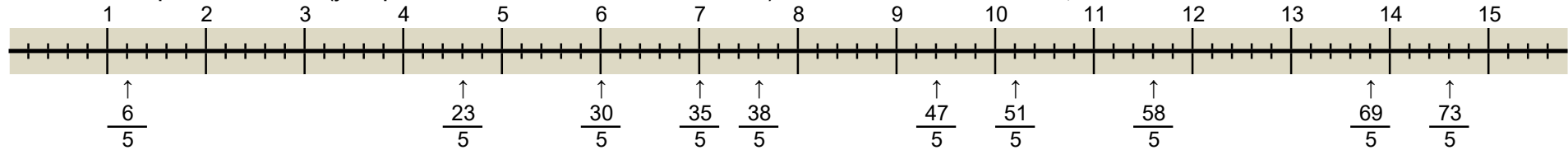


A Ecris sous chaque flèche la fraction (y compris sous la forme d'un entier + une fraction  $< 1$ ). Dans le cas de fractions décimales, écris aussi le nombre décimal. Fiche 808



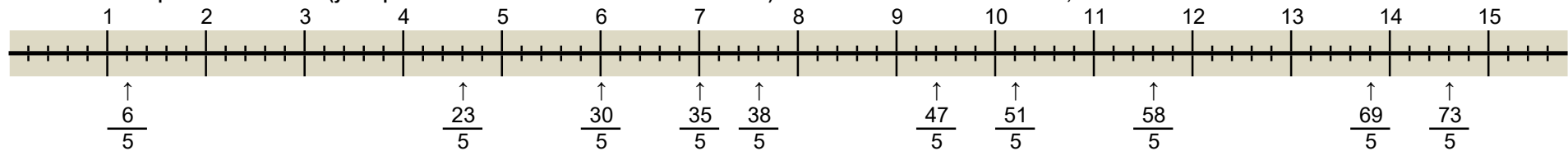
A Ecris sous chaque flèche la fraction (y compris sous la forme d'un entier + une fraction < 1). Dans le cas de fractions décimales, écris aussi le nombre décimal.

Fiche 808



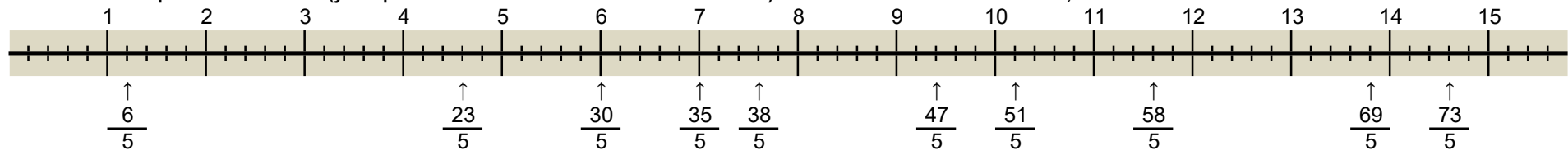
A Ecris sous chaque flèche la fraction (y compris sous la forme d'un entier + une fraction < 1). Dans le cas de fractions décimales, écris aussi le nombre décimal.

Fiche 808



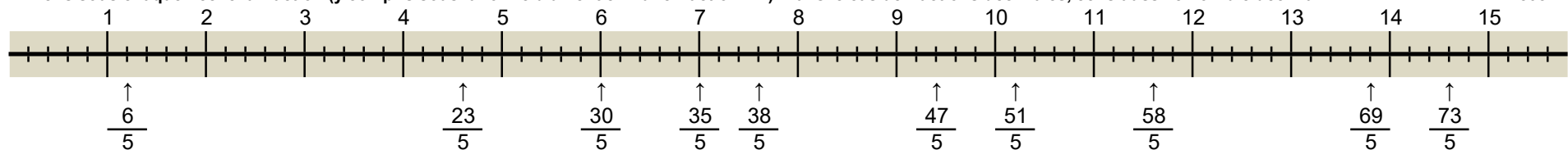
A Ecris sous chaque flèche la fraction (y compris sous la forme d'un entier + une fraction < 1). Dans le cas de fractions décimales, écris aussi le nombre décimal.

Fiche 808



A Ecris sous chaque flèche la fraction (y compris sous la forme d'un entier + une fraction < 1). Dans le cas de fractions décimales, écris aussi le nombre décimal.

Fiche 808



A Ecris sous chaque flèche la fraction (y compris sous la forme d'un entier + une fraction < 1). Dans le cas de fractions décimales, écris aussi le nombre décimal.

Fiche 808

